



Ponavljanje za ispit iz geografije u 7. razredu

- Zapadna i Sjeverna Europa -



- Kakav je bio geografski položaj Zapadne Europe u vrijeme Rimskog Carstva i u ranom novom vijeku?
 - jednak kao i danas
 - smatrana je središtem Europe
 - smatrana je zabačenim dijelom Europe
- Kada se geografski položaj Zapadne Europe promijenio?
 - kad su Vikinzi doplovili do Grenlanda
 - nakon velikih geografskih otkrića
 - u vrijeme provale Osmanlija
 - tijekom širenja kuge ("crne smrti")
- Koje more je bilo najprometnije prije velikih geografskih otkrića?
 - Egejsko
 - Jadransko
 - Sjeverno
 - Sredozemno
- Koji pomorac je otkrio Ameriku?
 - Bartolomeo Dias
 - Ferdinand Magellan
 - Kristofor Kolumbo
 - Vasco da Gama
- Koje godine je otkrivena Amerika?
 - 1472.
 - 1482.
 - 1492.
 - 1502.
- U što su države Zapadne Europe pretvarale osvojene preookeanske krajeve izvan Europe?
 - u episkopije
 - u kolonije
 - u satrapije
 - u sandžake
- U Sjevernoj Americi nikada nismo mogli pronaći
 - Novu Austro-Ugarsku
 - Novu Englesku
 - Novu Francusku
 - Novu Nizozemsku
- Koji velegrad se nekada zvao Novi Amsterdam?
 - Chicago
 - Los Angeles
 - New York
 - San Francisco
- Kakav je bio utjecaj geografskih otkrića na razvoj država uz Atlantski ocean?
 - naglo su osiromašile
 - ostale su jednako razvijene
 - pomogao je njihov razvoj
- Koje more ubrajamo u najprometnija mora svijeta?
 - Bijelo
 - Barentsovo
 - Karsko
 - Sjeverno
- Kako se u Engleskoj naziv Kanal?
 - English Channel
 - La Manche
 - Pas de Calais
- Kako se u Francuskoj naziv Kanal?
 - English Channel
 - La Manche
 - Pas de Calais
- Koja rijeka je najprometnija rijeka Europe?
 - Dunav
 - Rajna
 - Volga
- Koje države Zapadne Europe nemaju obale uz ocean?
 - Belgija
 - Luksemburg
 - Monako
 - Ujedinjeno Kraljevstvo
- Koje države Zapadne Europ. izlaze na Sredozemno more?
 - Belgija
 - Francuska
 - Monako
 - Nizozemska
- Koja država ima izlaz i na Atlantski ocean i Sredozemno more što joj je velika prednost?
 - Belgija
 - Francuska
 - Monako
- Koja se francuska rijeka ulijeva u Sredozemno more?
 - Dunav
 - Rhone
 - Schelde
- Obale Zapadne Europe su ...
 - niske i položene
 - strme i kamenite
 - visoke i stjenovite
- Na Atlantskom oceanu javljaju se ...
 - niski valovi
 - srednji valovi
 - visoki valovi
- Kako se zove široka, ljevasto riječno ušće?
 - delta
 - estuarij
 - fjord
- Estuariji su pogodni za gradnju
 - luka
 - rudnika
 - zračnih luka
- Nadopuni rečenicu.** "Tijekom plime razina mora se ...
 - ne mijenja
 - podigne
 - spusti
- Nadopuni rečenicu.** "Tijekom oseke razina mora se ...
 - ne mijenja
 - podigne
 - spusti
- Tijekom povlačenja rijeka iz estuarija odnosi:
 - lesne nanose
 - morenske nanose
 - riječne nanose
- Koju rijeku ne ubrajamo među važne plovne rijeke u Zapadnoj Europi?
 - Dunav
 - Loire
 - Seine
 - Thames
- Država poznata po **polderima** je:
 - Irska
 - Monako
 - Nizozemska
 - UK



27. Kakav je bio prostor na kojem su nastali polderi?
a) močvaran b) planinski c) šumovit
28. Polderi su od otvorenog mora odvojeni:
a) morenama b) nasipima c) šumama
29. Što prevladava u reljefu Zapadne Europe?
a) nizine b) planine c) visoravni
30. Što ne ubrajamo u mlade planinske lance?
a) Alpe b) Ardene c) Pireneje
31. Kakvog su postanka gorja u Velikoj Britaniji?
a) mladog b) prastarog c) starog
32. U kojoj državi je smješten Središnji masiv?
a) Belgiji b) Francuskoj c) Irskoj
33. U Irskoj ima malo:
a) livada b) pašnjaka c) šuma
34. Staro gorje je:
a) bogato rudama b) siromašno rudama c) bez ruda
35. U starim gorjima nema:
a) nafte b) ugljena c) željezne rude
36. U kojoj državi su **Peninsko** i **Kambrijsko** gorje?
a) Francuskoj b) Irskoj c) UK
37. U kojoj državi je smješteno staro gorje Ardeni?
a) Belgiji b) Irskoj c) Monako
38. U krajoliku Ardena prevladavaju:
a) goleti b) krški oblici c) šume
39. Što najviše utječe na klimu Zapadne Europe?
a) Atlantski ocean b) Arktički ocean c) Baltičko more
40. Koja morska struja utječe na klimu Zapadne Europe?
a) Benguelska b) Golfska c) Humboldtova
41. Koji vjetrovi Zapadnoj Europi donose kišu s Atlantika?
a) glavni zapadni b) pasati c) polarni istočni
42. Što je obilježje klime država u Zapadnoj Europi?
a) česte padaline b) oskudne padaline c) velike suše
43. Koje more je osobito bogato ribom?
a) Azovsko b) Ligursko c) Sjeverno
44. Sjeverno more je:
a) duboko b) jako duboko c) plitko
45. U Sjevernom moru ribari ne love:
a) bakalara b) sleđa c) šarana
46. **Plićak** poznat po ribolovu zove se:
a) Dogger Bank b) Dover Cliff c) Pas de Calais
47. Platforma služi za iskorištavanje:
a) kamenog ugljena
b) nafte i plina
c) solarne energije
48. Na obalama se razvija petrokemijska industrija tj:
a) čeličana b) rafinerija c) rudnici
49. U plitkim vodama Sjevernog i Irskog mora grade se:
a) hidroelektrane c) termoelektrane
b) solarne elektrane d) vjetroelektrane
- Koje su 2 države među vodećim svjetskim proizvođačima električne energije iz vjetroelektrana?
a) Belgija c) Irska
b) Francuska d) Ujedinjeno Kraljevstvo
51. Najgušće naseljena europska regija je:
a) Istočna Europa c) Srednja Europa
b) Južna Europa d) Zapadna Europa
52. Koja je država Zapadne Europe najrjeđe naseljena?
a) Belgija b) Irska c) Nizozemska
53. Belgija i Nizozemska su prema gustoći naseljenosti (prosječnoj naseljenosti) među:
a) najgušće naseljenim državama svijeta
b) najrjeđe naseljenim državama svijeta
c) prosječno naseljenim državama svijeta
54. Kako se zbog gospodarskog napretka nazivalo Irsku?
a) atlantski tigar c) germanski tigar
b) engleski tigar d) keltski tigar
55. Što je **Randstadt Holland**?
a) aglomeracija b) konurbacija c) satelit
56. Randstadt Holland je prsten:
a) država b) gradova c) sela
57. Koji grad ne pripada konurbaciji Randstadt Holland?
a) Antwerpen b) Haag c) Rotterdam d) Utrecht
58. Koja 2 grada su najveće aglomeracije Zapadne Europe?
a) Amsterdam b) Bruxelles c) London d) Pariz
59. Kakvi gradovi postoje u sastavu aglomeracije?
a) high-tech b) internetski c) satelitski d) ruralni
60. U kojoj državi je konurbacija "zlatni trokut"?
a) Belgiji b) Francuskoj c) Nizozemskoj d) UK
61. Koji grad ne pripada konurbaciji "zlatni trokut"?
a) Antwerpen b) Bruxelles c) Gent d) Lyon
62. Što nije točno o Bruxellesu?
a) Bruxelles je glavni grad Belgije
b) Bruxelles je sjedište Europske unije
c) Bruxelles je Sjedišta Vijeća Europe
d) U Bruxellesu je veliki sudarač čestica CERN
63. Zapadnoeuropska država poznata po **vinima** je
a) Belgija b) Francuska c) Irska d) Nizozemska
64. Zapadnoeuropska država poznata po **cvijeću** je
a) Belgija b) Francuska c) Irska d) Nizozemska




65. Koje zapadnoeuropske države ubrajamo u G7?
a) Francuska b) Nizozemska
b) Irsku d) UK
66. U kojem sektoru radi najviše zaposlenih u svim državama Zapadne Europe?
a) primarnom b) sekundarnom c) tercijarnom
67. Što je točno o *Rotterdamu*?
a) Razvoju Rotterdama nije odgovaralo proglašenje slobodne plovidbe rijekom Rajnom
b) Rotterdam je smješten u planinskom i rijetko naseljenom dijelu Nizozemske
c) Rotterdam se ubraja među manje europske luke
d) Rotterdamska luka nastala je na ušću Rajne.
68. Koji cvijet je simbol Nizozemske?
a) jaglac b) karanfil c) tulipan
69. Koji nizozemski grad je poznat po kanalima i biciklima?
a) Amsterdam b) Maastricht c) Utrecht
70. Britanski turisti često prenoće u prenoćištima nazvanim
a) bed and breakfast
b) bed and lunch
c) bed and dinner
71. Što je simbol britanskog vremena?
a) krema za sunce b) kišobran c) suncobran
72. Kako se u Ujedinjenom Kraljevstvu naziva 550 km dug morski prolaz koji odvaja Veliku Britaniju od Europe?
a) English Channel b) La Manche c) Kattegat
73. Kako se u Francuskoj naziva 550 km dug morski prolaz koji odvaja Veliku Britaniju od Europe?
a) English Channel b) La Manche c) Kattegat
74. Najuži dio Kanala Britanci nazivaju:
a) Doverska vrata b) Pas de Calais c) Skagerrak
75. Najuži dio Kanala Francuzi nazivaju:
a) Doverska vrata b) Pas de Calais c) Skagerrak
76. Kolika je širina La Manchea u najužem dijelu?
a) 22 km b) 32 km c) 42 km
77. Otočni položaj UK je pogodio:
a) cestovnim vezama b) napadima c) obrani
78. Što je jako popravilo položaj Ujedinjenog Kraljevstva?
a) ekspedicija Ferdinanda Magellana
b) otkrića obiju Amerika
c) provala Monogla (Tatara) u vrijeme Džingis kana
79. Prva pomorska i trgovačka velesila svijeta bila je:
a) Francuska b) Italija
c) Norveška d) Ujedinjeno Kraljevstvo
80. Što je utjecalo na reljef Britanskog otočja?
a) erupcije vulkana b) ledeno doba c) potresi
81. Do koje rijeke se protezao ledeni pokrivač?
a) Avona b) Shannona c) Temze
82. Zbog čega su Irska i Velika Britanija postale otoci?
a) zbog podizanja morske razine
b) zbog pomicanja duž rasjeda
c) zbog spuštanja terena
83. Potapanjem ledenjačkih dolina nastali su fjordovi u:
a) Engleskoj b) Škotskoj c) Walesu
84. Što nije posljedica ledenog doba?
a) nastanak fjordova u Škotskoj
b) nastanak udubljenja za ledenjačka jezera
c) širenje naselja u Škotskoj
d) zaobljeni vrhovi gora i planina
85. Koji dio UK je najgorovitiji?
a) Engleska b) Irska c) Škotska d) Wales
86. Koje gorje nije u Engleskoj?
a) Grampjansko b) Kumbrijsko c) Peninsko
87. Koje gorje je u Walesu?
a) Grampjansko b) Kambrijsko c) Kumbrijsko
88. Brdoviti planinski poluotok na zapadu Engleske zove se:
a) Cornwall b) Jylland c) Krim
89. Koji stalni vjetrovi donose vlagu Britanskom otočju?
a) glavni zapadni b) pasati c) polarni
90. Koji dio Engleske je najgušće naseljen?
a) Cornwall c) Kumbrijsko gorje
b) Londonska zavalala d) Peninsko gorje
91. Kakvo porijeklo imaju Irci, Škoti i Velšani?
a) keltsko b) romansko c) slavensko
92. Tko nije u velikom broju doseljavao u UK nakon Drugog svjetskog rata?
a) Afrikanci b) Indijci
b) Argentinci d) Pakistanci
93. Iz koje države dolaze radnici u UK u XXI. stoljeću?
a) Belgije b) Nizozemske c) Poljske
94. Što nije utjecalo na slabljenje gospodarstva UK?
a) gubitak kolonija
b) iscrpljenost Drugim svjetskim ratom
c) priključenje Europskoj uniji
d) zatvaranje rudnika i kriza stare industrije
95. Ujedinjenom Kraljevstvu ne pripada:
a) Kanalsko otočje b) otok Man c) Rügen
96. U kojem moru je smješten otok Man?
a) Irskom b) Keltskom c) Sjevernom



97. Koja rijeka protječe Londonskom zavalom?
a) Avon b) Clyde b) Severn d) Temza
98. Koliko milijuna stanovnika ima londonska aglomeracija?
a) 8,2 b) 10,2 c) 12,2, d) 14,2
99. Kakvi gradovi ulaze u sastav aglomeracije London?
a) avionski b) nebeski c) satelitski d) svemirski
100. Kako se naziva središte Londona
a) City b) State c) Town d) Village
101. Središte Londona smješteno je na mjestu gdje estuarij rijeke Thames (Temze)...
a) ostaje isti b) postaje širi c) postaje uži
102. Kada do Londona mogu doploviti oceanski brodovi?
a) za oseke b) za plime c) za plime i oseke
103. Kakvo središte je u londonskom Cityju?
a) poslovno b) vojno c) vjersko
104. Što ne vežemo uz londonski City?
a) banke b) dvorce c) osiguranja
105. Zaokruži slovo ispred točne tvrdnje o Cityju.
a) City ima jako puno stalnih stanovnika.
b) U City na posao dolazi oko 500 000 ljudi.
c) U Cityju ljudi većinom rade u industriji.
d) Turisti izbjegavaju City jer je nesigurna četvrt.
106. U kojem gradu ne postoji svjetski važna burza?
a) Londonu b) Napulju c) New Yorku d) Tokiju
107. Što je najviše utjecalo na povećanje broja stanovnika u engleskim gradovima poput Liverpoola, Leedsa i sl.?
a) agrarna revolucija c) koloniziranje Indije
b) industrijska revolucija d) otkriće Amerike
108. Kakav pojas dijeli London od satelitskih gradova?
a) bijeli pojas c) crveni pojas
b) crni pojas d) zeleni pojas
109. Što nije točno o Walesu?
a) glavni grad Cardiff c) gusta naseljenost
b) gorsko područje d) Kambrijsko gorje
110. Velški jezik se ubraja u...
a) germanske jezike c) romanske jezike
b) keltske jezike d) slavenske jezike
111. Škotska je ...
a) gorsko područje c) nizinska sastavnica UK
b) jako gusto naseljena d) razvijenija od Engleske
112. Koji je najveći grad u Škotskoj?
a) Aberdeen b) Edinburgh c) Glasgow
113. Koji grad se razvio u važnu luku zahvaljujući nafti iz Sjevernog mora?
a) Aberdeen b) Edinburgh c) Glasgow
114. Koji dio otoka Irske je ostao u sastavu UK?
a) južni b) sjeverni c) zapadni
115. Sjeverna Irska je poznata po ...
a) kupalištima b) mirnoći c) sukobima
116. Glavni grad Sjeverne Irske je...
a) Belfast b) Cardiff c) Edinburgh
117. Zaokruži slovo ispred **netočne tvrdnje** o Francuskoj.
a) Francuska ima prometne veze sa Srednjom Europom.
b) Francuska izlazi i na Atlantik i na Sredozemno more.
c) Glavni grad Francuske je Pariz.
d) Za Francusku Sredozemno more je uvijek bilo manje važno od Atlantskog oceana.
118. Koja od navedenih država nije imala kolonije?
a) Austro-Ugarska b) Francuska c) UK
119. Što ne ubrajamo među stara gorja Francuske?
a) Ardene c) Središnji masiv
b) Francusku Juru d) Vogeze
120. Što je točno o starim gorjima Francuske?
a) dobra raščlanjenost c) teško prohodne
b) prometna prepreka d) velike visine
121. Što ne predstavlja mlade planinske lance u Francuskoj?
a) Alpe b) Ardeni c) Jura d) Pireneji
122. Koliki je udio Francuske niži od 200 m tj. ubraja se u nizine?
a) 30% b) 40% c) 50% d) 60%
123. Što ne vežemo uz francuske planine?
a) hidroenergiju c) šumarstvo
b) poljodjelstvo d) zimski turizam
124. Koja zavala je na sjeveru Francuske?
a) Akvitanska b) Pariška c) Rhonsko-saonska
125. Koja rijeka teče kroz Pariz?
a) Seine b) Temza c) Tiber
126. Koja francuska regija je poznata po uzgoju lavande?
a) Akvitanija b) Alzas c) Provansa
127. Koja država je prema površini najveća u EU?
a) Francuska b) Njemačka c) Španjolska
128. Zaokruži točnu tvrdnju o stanovništvu Francuske.
a) Francuska ima oko 55 milijuna stanovnika.
b) Francuska ima visok prirodni prirast.
c) Francuska ima veliku imigraciju iz Afrike.
d) Francuska nije zanimljiva useljenicima.
129. Vodeća u Europi prema poljoprivrednoj proizvodnji je...
a) Francuska b) Nizozemska c) Ukrajina
130. Francuska je osobito poznata po:
a) proizvodnji pluta b) ulovu sleđa c) vinarstvu





131. Zaokruži naziv za poznatu obalu u Francuskoj.
a) Azurna obala b) Costa del Sol c) Zlatna obala
132. Zaokruži naziv hodočasničkog središta vjerskog turizma u francuskim Pirenejima?
a) Fatima b) Lourdes c) Santiago
133. Francuska je vodeća država svijeta po proizvodnji...
a) hidroenergije b) nuklearne energije c) solarne en.
134. Najnaseljeniji i gospodarski najvažniji dio Francuske je
a) Akvitanija b) Pariška zavalata c) Središnji masiv
135. Koji francuski grad **ne ubrajamo** među gradove čiji je razvoj planski potican zbog rasterećenja Pariza?
a) Bordeaux c) Lyon
b) Lille d) Sain-Jean-Pied-de-Port
136. Koji francuski grad **ne ubrajamo** među gradove čiji je razvoj planski potican zbog rasterećenja Pariza?
a) Rennes b) Strasbourg c) Toulouse
137. Koji francuski grad **ne ubrajamo** među gradove čiji je razvoj planski potican zbog rasterećenja Pariza?
a) Marseille b) Metz c) Nancy d) Nantes
138. Najveća luka Francuske s razvijenom petrokemijskom industrijom je:
a) Brest b) Le Havre c) Marseille d) Nice
139. Prometno čvorište i druga aglomeracija nakon Pariza je:
a) Bordeaux b) Lille c) Lyon d) Nantes
140. Staro vinogradarsko središte Francuske je:
a) Bordeaux b) Lille c) Lourdes d) Nancy
141. Zaokruži slovo ispred netočne rečenice o Monaku.
a) Monako je bliže povezan s Italijom nego s Francuskom.
b) Monako zarađuje novce putem bankarstva.
c) Monako je kneževina u kojoj je dozvoljeno kockanje.
d) U Monte Carlu postoji poznati oceanografski institut.
142. Poznato pariško sveučilište je:
a) Cambridge b) Lomonosov c) Oxford d) Sorbonne
- SJEVERNA EUROPA**
143. Zaokruži slovo ispred mora na koje ne izlaze države Sjeverne Europe
a) Baltičko b) Bijelo c) Norveško d) Sjeverno
144. Morski prolaz je...
a) Mali Belt b) Oresund c) Skagerrak d) Veliki Belt
145. Koji umjetno prokopani kanal povezuje Baltičko i Sjeverno more?
a) Kielski b) Korintski c) Panamski d) Sueski
146. Prastarog postanka je:
a) Island b) Ruska platoforma c) Skandinavsko gorje
147. U kojoj nizini su Estonija, Latvija i Litva?
a) Istočnoeuropskoj b) Padskoj c) Panonskoj
148. Koja država nije niti jednim dijelom na Baltičkom štitu?
a) Finska b) Norveška c) Švedska
149. Što ne vežemo uz Skandinavsko gorje?
a) plodno tlo b) stari postanak c) željezna ruda
150. Čega nema u Sjevernoj Europi?
a) poldera b) ledenjačkih jezera c) rijeka
151. Vulkanske stijene nalazimo:
a) na Islandu b) u Danskoj c) u Estoniji
152. Island je nastao na mjestu gdje se litosferne ploče
a) podvlače b) razmiču c) smiču
153. U obilježja Islanda ubrajamo...
a) olujne tajfune b) monsunske kiše c) vulkanizam
154. Na Islandu nema:
a) geizira b) sumporovih vrela c) stepa
155. Kakva je voda u geizirima?
a) ledena b) hladna c) vruća
156. "Zemlja vatre i leda" je ...
a) Danska b) Island c) Norveška
157. Reljef Sjeverne Europe najviše je preoblikovan u:
a) holocenu b) ledenom dobu c) prekambriju
158. Kolika je bila debljina leda nad Botničkim zaljevom?
a) 30 metara b) 300 metara c) 3 kilometra
159. Što su ledenjaci gurali ispred sebe?
a) stabla b) stijene c) vodu
160. U povijesti Zemlje bilo je nekoliko ledenih doba. Zadnje ledeno doba završilo je početkom holocena tj. prije
a) 8000 godina b) 10 000 godina c) 12 000 godina
161. Istrugano kamenje i stijene čine nanose koje zovemo:
a) fjelдови b) fjordovi c) morene
162. Led je stvorio brojna udubljenja koja su popunjena vodom. Država nazvana "zemljom milijun jezera" je:
a) Finska b) Latvija c) Litva
163. Fjeldovi su:
a) nizine b) planine c) visoravni
164. Fjeldovi su česti u:
a) Danskoj b) Norveškoj c) Švedskoj
165. Što se dogodilo s razinom svjetskog mora nakon završetka ledenog doba i otapanja ledenjaka?
a) ostala je ista b) podigla se c) spustila se
166. Što je fjord?
a) duboki zaljev b) nanos stijena c) plodno tlo
167. Fjordovi su nastali ...
a) padanjem kiša b) radom ledenjaka c) vulkanizmom
168. Obilježje fjordova su...
a) blage strane b) položene strane c) strme strane

169. Ostatke ledene kape nalazimo
a) na Islandu b) u Danskoj c) U Latviji
170. Zaokruži slovo ispred onoga što nema velik utjecaj na klimu u Sjevernoj Europi.
a) geografska širina (udaljenost od ekvatora)
b) prevladavajuća zračna strujanja
c) topla morska struja
d) Sredozemno more
171. Ogranci koje morske struje dopiru do Sjeverne Europe.
a) Kuro šio b) Golfske c) Oja šio
172. Što se ne zaleđuje zbog Golfske struje?
a) Botnički zaljev b) Norveško more c) sjever Islanda
173. Zašto većina Islandana živi na jugu otoka?
a) zbog klime b) zbog prometa c) zbog vulkana
174. Koju klimu ima najveći dio Sjeverne Europe?
a) klimu tundre c) umjereno toplu vlažnu
b) sredozemnu d) vlažnu snježno-šumsku
175. Zašto su Botnički i Finski zaljev zaleđeni od listopada do ožujka, a Norveško more nije?
a) Botnički i Finski zaljevi su duboki pa se brže lede.
b) Norveško more je izloženo utjecajima pasata.
c) U Norveško more dolazi, a u zaljeve ne dolazi ogranak tople morske struje.
176. Koje šume su raširene u vlažnoj snježno-šumskoj klimi?
a) bjelogorične šume c) tropske kišne šume
b) listopadne šume d) vazdazelene šume
177. Tajge su:
a) pustinje b) stepski travnjaci c) vazdazelene šume
178. Najhladnija od navedenih klima je:
a) klima tundre c) umjereno topla vlažna klima
b) sredozemna klima d) vlažna snježno-šumska klima
179. Čega nema u prostorima s klimom tundre?
a) drveća c) lišajeva i mahovine
b) hladnoće d) smrznutog tla
180. Tundra je biljna zajednica:
a) lišajeva i mahovine b) niske trave c) vazdazelene šume
181. Čega ima puno u klimi tundre tijekom ljeta?
a) komaraca b) pčela c) ptica pjevica
182. Sjeverno od koje usporednice Sunce zimi ne izlazi i po nekoliko tjedana?
a) ekvatora b) sjeverne obratnice
b) polutnika d) sjeverne polarnice
183. Sjeverno od koje usporednice Sunce ljeti ne zalazi i po nekoliko tjedana?
a) ekvatora b) sjeverne obratnice
b) polutnika d) sjeverne polarnice
184. Zaokruži slovo ispred naziva sjevernog dijela Skandinavskog poluotoka.
a) "zemlja Baltičkog štita"
b) "zemlja bijelih noći"
c) "zemlja ponoćnog sunca"
d) "zemlja vatre i leda"
185. Zašto su rijeke u Sjevernoj Europi bogate vodom?
a) zato što ima malo padalina
b) zato što je podzemlje slabo vodopropusno
c) zato što su jako velika isparavanja
d) zato što su stalno visoke temperature
186. Kako nazivamo premještanje industrije na obale mora?
a) aglomeracija c) litoralizacija
b) konurbacija d) urbanizacija
187. U kojoj državi ima najviše jezera ledenjačkog postanka?
a) Danskoj c) Finskoj
b) Estoniji d) Švedskoj
188. U koje dvije države rijeke služe za splavarenje trupaca?
a) na Islandu c) u Finskoj
b) u Latviji d) u Švedskoj
189. Zaokruži slovo ispred drugog naziva za vješte srednjovjekovne pomorce Normane.
a) Mlečani c) Tatari
b) Osmanlije d) Vikinzi
190. Do kuda nikad **nisu doplovili** Vikinzi (Normani)?
a) do Antarktike c) do Islanda
c) do Grenlanda d) do Sjeverne Amerike
191. Oko koje godine su Normani doplovili do Sjever. Amerike?
a) 1 godine c) oko 1000. godine
b) oko 500. godine d) 1492.
192. Koje dvije skupine država razlikujemo u geografskoj regiji nazvanoj Sjeverna Europa?
a) baltičke c) mediteranske
b) kavkaske d) nordijske
193. Koju od navedenih država **ne ubrajamo** u nordijske države Sjeverne Europe?
a) Dansku c) Litvu
b) Island d) Švedsku
194. Koju od navedenih država **ne ubrajamo** u nordijske države Sjeverne Europe?
a) Danska c) Latviju
b) Finsku d) Norvešku
195. Koju od navedenih država **ne ubrajamo** u baltičke države Sjeverne Europe?
a) Estoniju c) Latviju
b) Finsku d) Litvu

196. Kojoj državi su nakon Drugog svjetskog rata pripojene Estonija, Latvija i Litva?
- a) Njemačkoj c) Poljskoj
b) Sovjetskom Savezu d) Švedskoj
197. Kolika je gustoća naseljenosti (prosječna naseljenost) u Sjevernoj Europi?
- a) 12 stan./km² c) 32 stan./km²
b) 22 stan./km² d) 42 stan./km²
198. Kojoj skupini pripadaju finski i estonski jezik?
- a) germanskoj c) slavenskoj
b) romanskoj d) ugrofinskoj
199. Koji je drugi naziv za narod **Saami**?
- a) Baski c) Inuiti
b) Flamanci d) Laponci
200. U kojoj državi ne žive Saami (Laponci)?
- a) Finskoj c) Norveškoj
b) Islandu d) Švedskoj
201. Saami (Laponci) su poznati po stadima
- a) bivola c) krava
b) bizona d) sobova
202. Koji prostor ne ubrajamo u najgušće naseljene dijelove Sjeverne Europe?
- a) danski otoci c) jug Skandinavskog poluotoka
b) Jylland d) Svalbard
203. Najveći gradovi Sjeverne Europe smješteni su:
- a) na obalama c) u sjevernim fjordovima
b) na planinama d) u unutrašnjosti država
204. Opiši životni standard u nordijskim državama.
- a) životni standard je nizak i izraženo je siromaštvo
b) životni standard je srednje visok
c) životni standard je visok unutar Europe
d) životni standard je među najvišima u svijetu
205. Što nije obilježje života u državama Sjeverne Europe?
- a) dobri uvjeti stanovanja
b) kvalitetna zdravstvena zaštita
c) loš obrazovni sustav
d) visoki dohodak
206. U koje dvije sjeverno europske države je najviše doseljavalo stanovništvo kao radna snaga?
- a) Dansku c) Norvešku
b) Finsku d) Švedsku
207. Izraženo useljavanje nemaju:
- a) baltičke države b) nordijske države
208. Tko se nije iseljavao iz baltičkih država nakon raspada Sovjetskog Saveza 1991. godine?
- a) Bjelorusi b) Moldavci c) Rusi d) Ukrajinci
209. Što nije obilježje poljoprivrede u Sjevernoj Europi?
- a) isti uvjeti za poljoprivredu u svim državama
b) negativan utjecaj smještaja u hladnom pojasu
c) oštra klima s dugim i hladnim zimama
d) plodnog tla ima vrlo malo
210. Koje dvije države Sjeverne Europe imaju čak $\frac{3}{4}$ neplodnog zemljišta tj. loše uvjete za poljoprivredu?
- a) Estonija c) Litva
b) Island d) Norveška
211. Od navedenih država **najrazvijeniju poljoprivredu** ima
- a) Danska c) Latvija
b) Estonija d) Litva
212. Što je obilježje poljoprivrede u Danskoj?
- a) nema dovoljno plodnog tla
b) slabo obrazovani poljoprivrednici
c) suvremeni načini proizvodnje
d) udio obrađenih površina je 1/5 površine
213. Koje žitarice se najviše uzgajaju u Sjevernoj Europi jer im ne smeta hladnija klima?
- a) ječam c) raž
b) pšenica d) riža
214. U kojoj državi se industrija nije razvila na temelju hidroenergije?
- a) Danskoj c) Norveškoj
b) Islandu d) Švedskoj
215. Po čemu je poznat švedski grad Kiruna?
- a) drvenom namještaju c) proizvodnji hrane
b) izvorima nafte d) željeznoj rudi
216. U koje dvije države je drvna industrija vrlo razvijena budući da im je velik udio površine prekriven šumom?
- a) Islandu c) Litvi
b) Finskoj d) Švedskoj
217. Država s najvećim udjelom vjetroelektrana je:
- a) Danska c) Norveška
b) Island d) Švedska
218. Izaberi **netočnu tvrdnju** o Norveškoj.
- a) Četvrtina površine Norveške je sjeverno od sjeverne polarnice.
b) Najvažnija luka na sjeveru Norveške je Narvik.
c) Norveška ima razvedenu obalu – najdulju u Europi.
d) Norveška je najsjevernija europska država.
219. Izaberi **netočnu tvrdnju** o Švedskoj.
- a) Najveća jezera u Švedskoj su Vanern i Vattern.
b) Najveća i najmnogoljudnija u Sjevernoj Europi.
c) Stockholm je kanalima povezan s Kirunom.
d) Iz Švedske dolaze tvrtke Volvo i IKEA.



220. Izaberi *netočnu tvrdnju* o Finskoj.

- a) Finska ima većinom nizinski, blago valovit, reljef.
- b) Finska je zemlja u kojoj nema prirodnih jezera.
- c) Finske rijeke poznate su po splavarenju drva.
- d) Finski veći gradovi su Helsinki, Turku i Tampere.



223. Izaberi *netočnu tvrdnju* o Islandu.

- a) Island ima manje stanovnika od Hrvatske.
- b) Island je najgušće naseljena država Europe.
- c) Island je površinom dvostruko veći od Hrvatske.
- d) Islandani većinom žive u glavnom gradu.

221. Izaberi *netočnu tvrdnju* o Estoniji.

- a) Ima obale na Sjevernom moru, ali nema otoke.
- b) Između morenskih nanosa mnogobrojna su jezera.
- c) Najveće jezero je Peipsi na granici s Rusijom.
- d) Smještena je između Finskog i Riškog zaljeva.

224. Izaberi *netočnu tvrdnju* o Litvi.

- a) Litva izlazi na Sjeverno more.
- b) Litva je najveća i najgušće naseljena baltička država.
- c) Litvanska glavna luka je Klaipeda.
- d) Litvanski glavni grad je nastao na križanju puteva.

222. Izaberi *netočnu tvrdnju* o Danskoj.

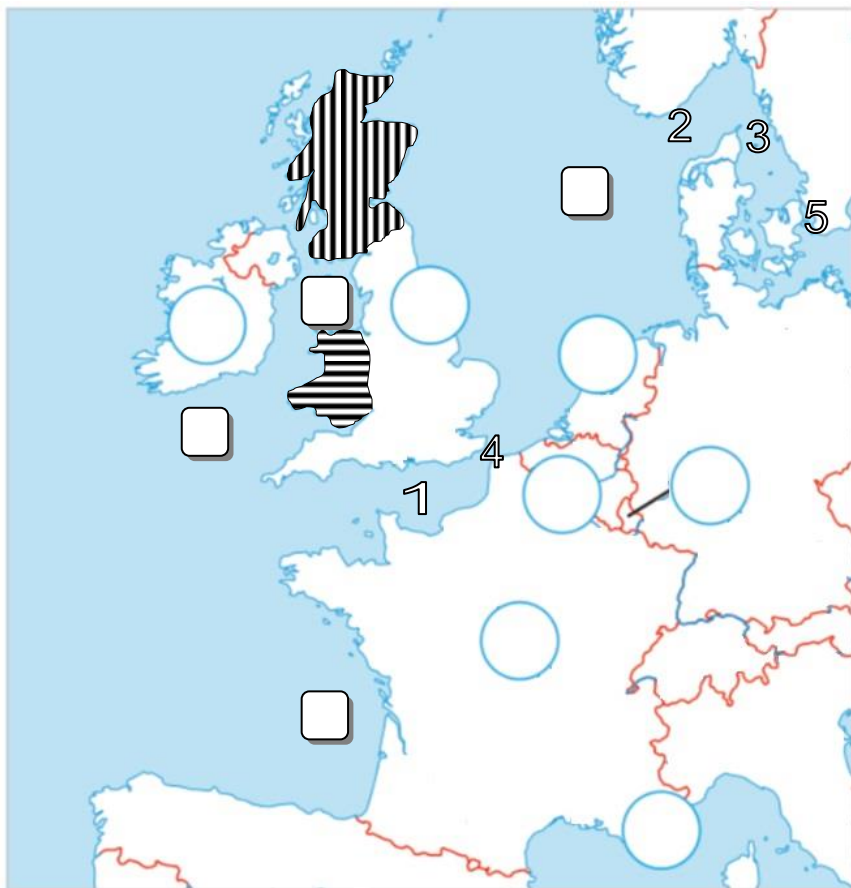
- a) Danska je smještena na Jyllandu i brojnim otocima.
- b) Danski glavni grad, Kopenhagen, je na otoku.
- c) Danskoj pripadaju i Farski (Ovčji) otoci.
- d) Dansku poljoprivredu obilježava nerazvijenost



225. Izaberi *netočnu tvrdnju* o Latviji.

- a) Latvija i Letonija su jedno te isto.
- b) Latvija je drugi naziv za Litvu.
- c) Latvijski glavni grad je i najveća luka, a to je Riga.
- d) Latvijom teče rijeka Daugava (Zapadna Dvina).

SNALAŽENJE NA ZEMLJOVIDU

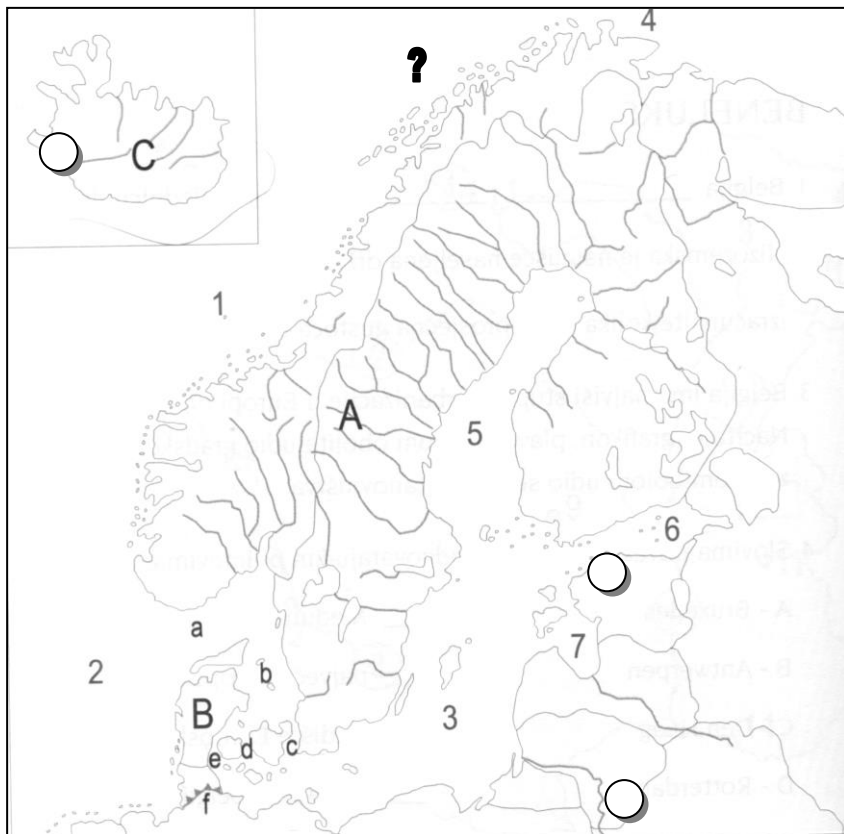


Monako – crvenom, Nizozemsku – narančastom i Ujedinjeno Kraljevstvo Velike Britanije i Sjeverne Irske – ljubičastom.

1. Žutom oboji dvije države Zapadne Europe koje su članice organizacije G-7 – Prilikom bojanja oboji otoke ili dijelove otoka koji im pripadaju.
2. Zelenom bojom oboji 3 države Beneluxa.
3. Plavom ucrtaj tok najprometnije europske rijeke Rajne. Na odgovarajućem mjestu smeđom bojom ucrtaj Kielski kanal.
4. Brojem 1 označen je morski prolaz, a brojem 4 njegov najuži dio
5. Brojem 2 označen je morski prolaz, a brojem 3 morski prolaz
6. Brojem 5 označen je morski tjesnac
7. U odgovarajući kvadrat upiši za
 - a) Biskajski zaljev – **A**
 - b) Irsko more - **B**
 - c) Keltsko more – **C**
 - d) Sjeverno more - **D**
8. Oboji odgovarajući kružić bojama tako da označiš: Belgiju- žutom, Francusku - plavom, Irsku zelenom, Luksemburg - smeđom,

9. U kružiće upiši slovo R za države koje su republike i slovo M za države koje su monarhije (obuhvaća kneževinu, kraljevine, kraljevstvo i veliko vojvodstvo).

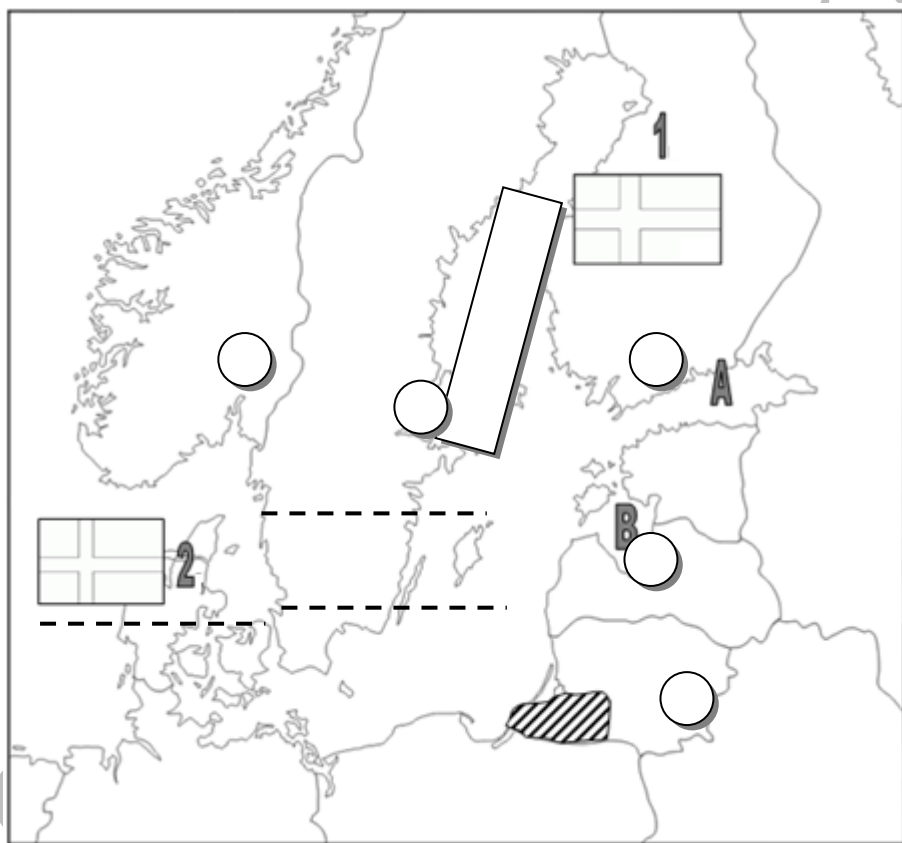
10. Upiši ime sastavnice u UK označene horizontalnim crtama, vertikalnim crtama



11. Žutom bojom oboji državu "vatre i leda".
12. Kojim slovom je označen morski prolaz/tjesnac:

| | |
|----------------------------|------------------------------|
| <i>Kattegat</i> - | <i>Skagerrak</i> - |
| <i>Oresund</i> - | <i>Kielski kanal</i> - |
| <i>Veliki Belt</i> - | <i>Mali Belt</i> - |
13. Plavom oboji Baltičko more sa zaljevima.
14. Brojem 1 označeno je more, brojem 2 more, a brojem 4 more.
15. Svjetloplavom podebljaj rijeku Zapadnu Dvinu.
16. Upiši slovo/broj kojim je označen:

| | |
|------------------------------------|-------------------------------|
| <i>Finski zaljev</i> - | <i>poluotok Jylland</i> |
| <i>Skandinavski poluotok</i> | <i>Riški zaljev</i> |
17. U kružić upiši za Reykjavik 1, Tallinn 2 i Vilnius 3.
18. Kako se zove ribolovno područje i otočje u Norveškoj označeno upitnikom?
19. U Litvu upiši LITVA, a u Latviju LETONIJA.
20. Švedsko jezero **Vänern** označi vodoravnim, a **Vättern** okomitim crtama
21. Zaokruži bilo koji fjord na zemljovidu.



22. Odgovarajućim bojama obojite zastave država u kojima su ucrtane.
23. Upiši imena država. Brojem 1 označena je čiji je glavni grad, a brojem 2 čiji je glavni grad
24. Narančastom oboji državu poznatu po fjordovima i fjeldovima. U pitanju je (upisati ime države).
25. Crvenom bojom označi granice država Sjeverne Europe prema Ruskoj Federaciji.
26. Slovom A označen je zaljev, a slovom B zaljev.
27. Kojoj državi pripada teritorij označen kosim crtama?
28. U pravokutnik upiši ime velikog i dugo zaleđenog morskog zaljeva u Baltičkom moru.
29. Na crte napiši imena gradova **Göteborg**, **Kopenhagen** i **Malmö**.

30. U kružićima označi: Helsinki – 1, Oslo – 2, Riga – 3, Stockholm – 4, Vilnius – 5.

31. Baltičko more sa svim zaljevima oboji svjetlo plavom bojom.

32. U "državu milijun jezera" upiši riječ MILIJUN, a u državu iz koje dolazi tvrtka IKEA upiši DRVNA INDUSTRIJA.

33. U državu u kojoj su gradovi Bergen, Narvik, Stavanger i Trondheim upiši slova BNST.

34. U tri baltičke države koje su bile dio Sovjetskog Saveza upiši slova SSSR.

35. Države vidljive na slijepome zemljovidu koje su bile u SSSR-u, ali nisu u Sjevernoj Europi oboji crvenom bojom (Rusiju i Bjelorusiju).